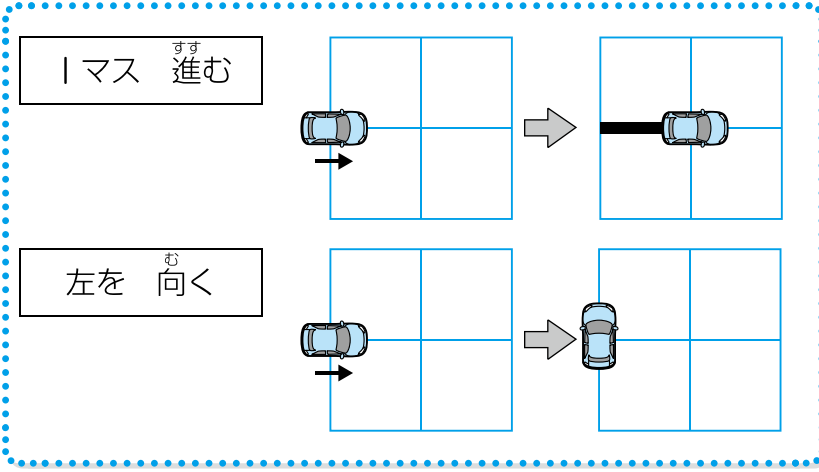




じゅんじょ ①

月 日	時 分～ 時 分
名前	答え
	点

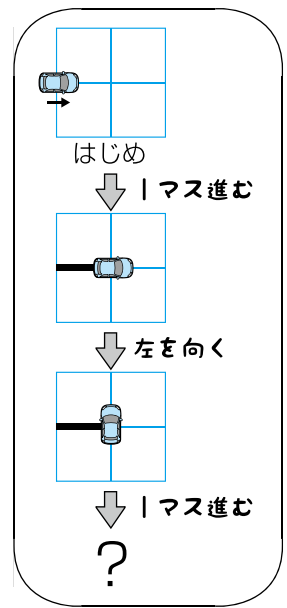
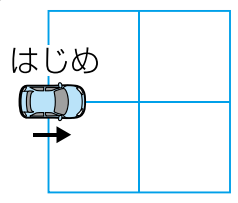
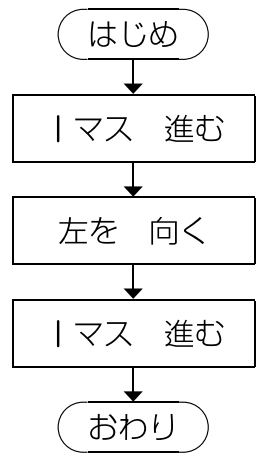
① 車のロボットを動かして線をかきます。ロボットを動かすには、次の命れいを使います。



動いたところに線がひかれるよ。

ロボットは、命れいしたじゅんに動きます。次のように命れいしたとき、どんな線になりますか。

25点



- ア
 - イ
 - ウ
- (ア)

新興出版社啓林館 ちびむすドリル special コラボ

ドリルの王様

楽しく取り組めるから **長続き** する！

各種検定試験、また 2020年度からの **新学習指導要領** にも対応！

ドリルの王様 or 教科書びったりテスト [検索](#)

ドリルの王様
公式サイトは
こちら

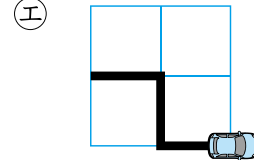
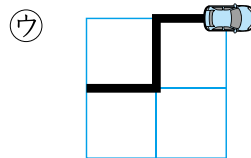
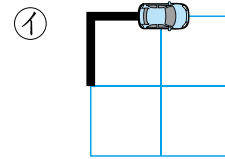
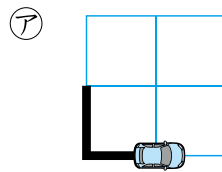
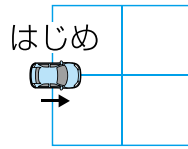
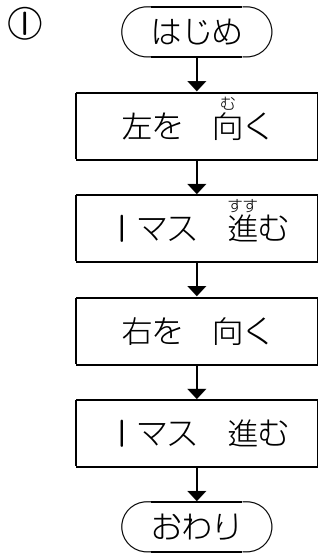
予習・復習に便利な
教科書びったりテスト
公式サイトはこちら



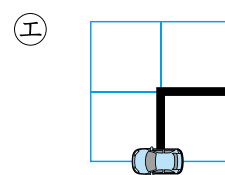
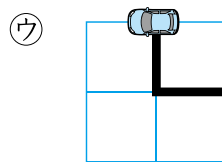
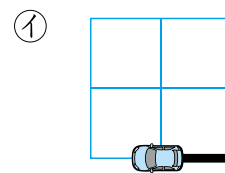
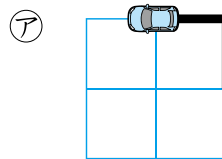
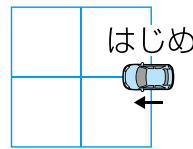
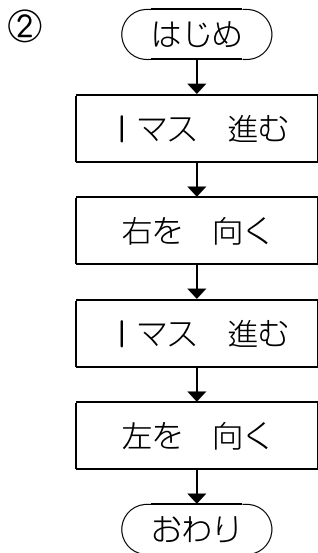
じゅんじょ ②

月 日	時 分～ 時 分
名前	答え
	点

① 車のロボットを動かして線をかきます。次のように命れいしたとき、どんな線になりますか。 50点(1つ25)



(イ)



(ウ)

新興出版社啓林館 ちびむすドリル special コラボ

ドリルの王様

楽しく取り組めるから **長続き** する!

各種検定試験、また 2020年度からの **新学習指導要領** にも対応!



ドリルの王様

or

教科書ぴったリテスト

検索

ドリルの王様
公式サイトは
こちら



予習・復習に便利な
教科書ぴったリテスト
公式サイトはこちら





4 くり返し②

月 日	時 分～ 時 分
名前	答え
	点

① ロボットは、命れ^{めい}いたじゅんに、左からくだものをならべます。

はじめ

2回
くり返す

りんごを おく


みかんを おく

ここまで

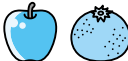
おわり

はじめ


↓りんごを おく




↓みかんを おく



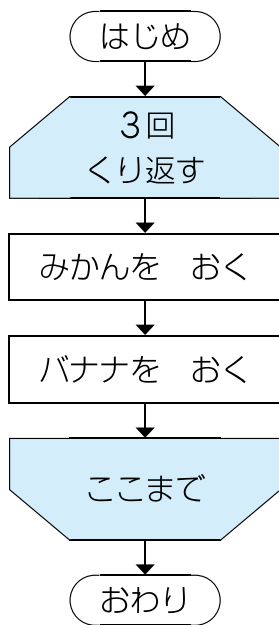
↓りんごを おく







↓みかんを おく



つぎ 次のように命れいたとき、くだものは、どのようにならびますか。 30点



- ア 
- イ 
- ウ 
- エ 

(工)





5

ぶんき ①

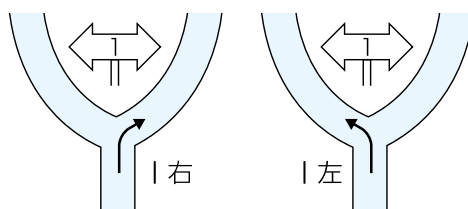
月 日	時 分～ 時 分
名前	答え
	点

① はるとさんは道にまよってしまったので、ゆうなさんに電話をしました。はるとさんは目の前の分かれ道に1のかん板があることを、ゆうなさんにつたえました。ゆうなさんは、次のようにはるとさんに道をつたえます。

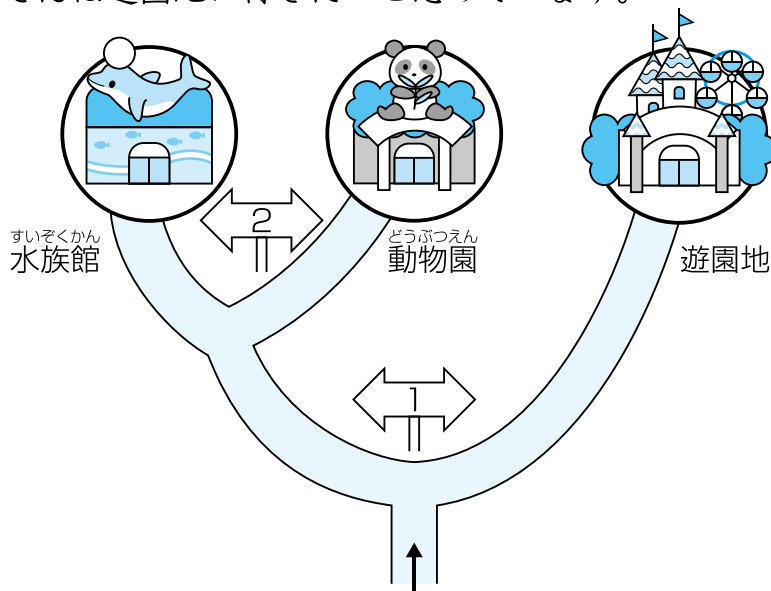
40点(1つ20)

1のかん板を右に進んでほしいときは、「1右」とつたえます。

1のかん板を左に進んでほしいときは、「1左」とつたえます。



① はるとさんは遊園地に行きたいと思っています。



ゆうなさんは、はるとさんにどのようにつたえたらいいですか。

- ア 1右 イ 1左 ウ 2左 エ 2右 (ア)

② 水族館に行きたいと思っている人には、どのようなじゅんばんでつたえたらいいですか。

- ア 1右 イ 1左 ウ 2左 エ 2右 (イ) → (ウ)





6

ぶんき ②

月 日 時 分～ 時 分

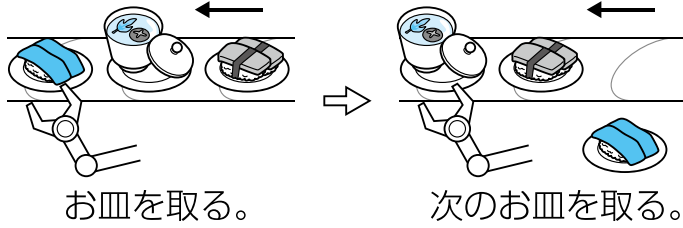
名前

答え

点

1 ^{かいてん}回転ずしでは、いろいろな食べものがお皿にのって流れてきます。このお皿を取るロボットがあります。ロボットは、^{さら}次のようなきまりで、^{なが}お皿を取ります。

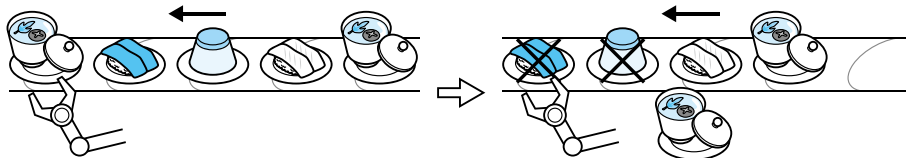
・ 右から流れてくるお皿を | まいずつ取る。



お皿を取る。

次のお皿を取る。

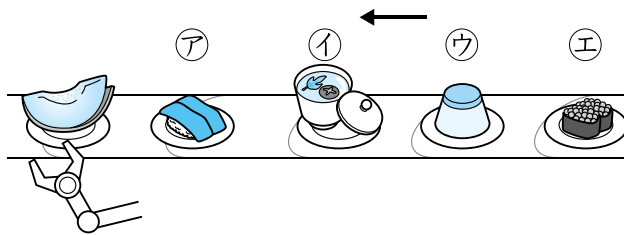
・ おすしではないお皿を取ったら、そのあとの2まいは取らない。



おすしではないお皿を取る。

あとの2まいは取らず、その次のお皿を取る。

次のようにお皿が流れてくるとき、このロボットがメロンの次を取るお皿はどれですか。 12点



(ウ)

「メロン」はおすしではないね！あとの2まいは取らないよ。





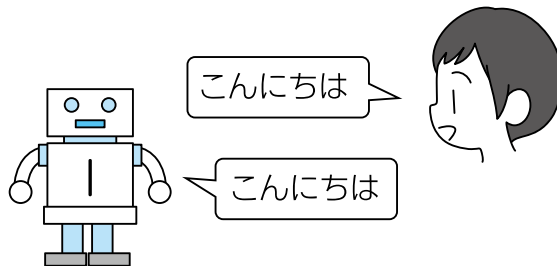
へん数①

月	日	時	分~	時	分
名前		答え			点

① はるとさんは、お父さんにことばをおぼえるロボットを買ってもらいました。ロボットは3体あり、それぞれさいごにつたえられたことばをおぼえます。

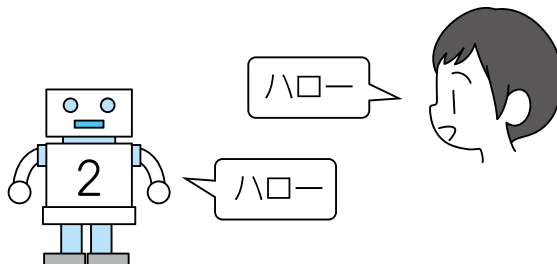
・ロボット1号に、「こんにちは」をおぼえてほしいときは、次のようにつたえます。

ロボット1号←「こんにちは」



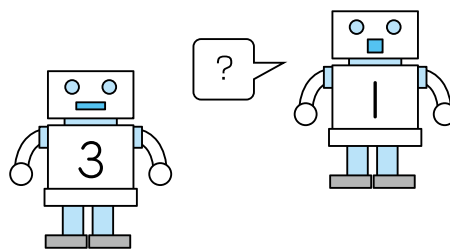
・ロボット2号に、「ハロー」をおぼえてほしいときは、次のようにつたえます

ロボット2号←「ハロー」



つづけて、ロボット3号にロボット1号がおぼえていることばを、おぼえるように命じられました。

ロボット3号←ロボット1号



このとき、ロボット1号、2号、3号がおぼえていることばはそれぞれ何ですか。

22点(7,7,8)

それぞれのロボットがさいごにつたえられたことばは何かな。



ア こんにちは イ ハロー

1号 (ア) 2号 (イ) 3号 (ア)









へん数②

月	日	時	分～	時	分
名前		答え			点

花のなえを植えます。1か所に植える数を次のようにしました。

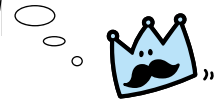
あさがお←6 ひまわり←8 ほうせんか←7 マリーゴールド←9 おしろいばな←5



花のなえを次の場所に植えます。

ベランダ←あさがお+ひまわり
公園←ひまわり+ほうせんか
花だん←ほうせんか+マリーゴールド
校庭←マリーゴールド+おしろいばな

ベランダ	6+8
公園	8+7
花だん	7+9
校庭	9+5



1 植えるなえの数はそれぞれいくつですか。()にあてはまる数をかきましよう。 16点(1つ4)

- | | | | |
|--------|--------|------|--------|
| ① ベランダ | (14) | ② 公園 | (15) |
| ③ 花だん | (16) | ④ 校庭 | (14) |

2 なえの数が多の方に○をつけましよう。 24点(1つ4)

- | | | | | | |
|---|---------|-------|---|--------|-------|
| ① | ベランダ | 公園 | ② | 公園 | 花だん |
| | () | (○) | | () | (○) |
| ③ | 花だん | 校庭 | ④ | ベランダ | あさがお |
| | (○) | () | | (○) | () |
| ⑤ | マリーゴールド | 公園 | ⑥ | おしろいばな | 校庭 |
| | () | (○) | | () | (○) |



ドリルの王様

だいたくしゅう 大特集

とく てん ひょう 得点表

3・4ねんの 楽しいプログラミング

ドリルにチャレンジして、^{てんすう きろく}点数を記録しよう。
^{かいめ ぜんもんせいかい}1回目で全問正解できなくても2回、3回と、
^{かえ せん}くり返しちょう戦しよう！
^{まんてん と}満点が取れたら、^{いろ}に色をぬってね。

めざせ
まんてん
満点!!

名前	1回目	2回目	3回目
1 じゅんじよ①	点	点	点
2 じゅんじよ②	点	点	点
3 くり返し①	点	点	点
4 くり返し②	点	点	点
5 ぶんき①	点	点	点
6 ぶんき②	点	点	点
7 へん数①	点	点	点
8 へん数②	点	点	点

新興出版社啓林館 ちびむすドリル special コラボ

ドリルの王様

楽しく取り組めるから **長続き** する!

各種検定試験、また 2020 年度からの **新学習指導要領** にも対応!



ドリルの王様

or 教科書ぴったリテスト

検索

ドリルの王様
公式サイトは
こちら



予習・復習に便利な
教科書ぴったリテスト
公式サイトはこちら

