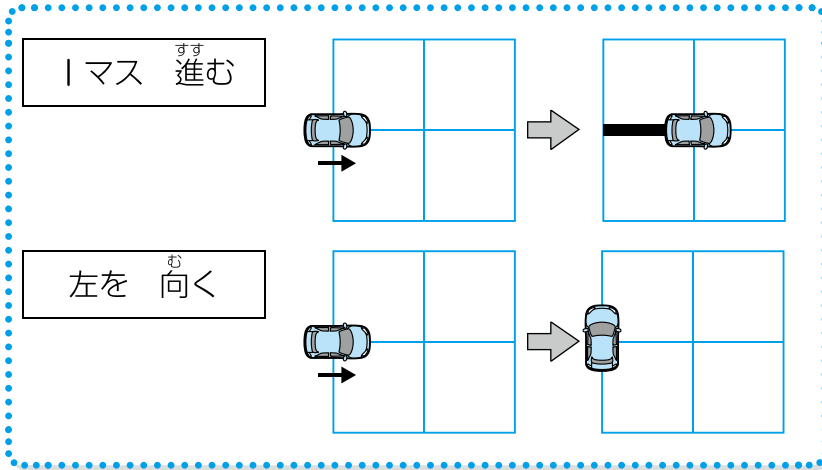




じゅんじょ ①

月 日	時 分～ 時 分
名前	点

① 車のロボットを動かして線をかきます。ロボットを動かすには、次の命れいを使います。

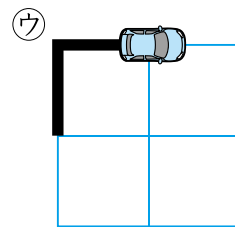
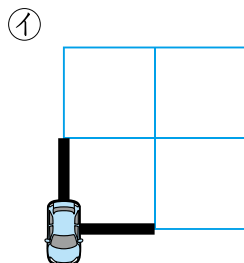
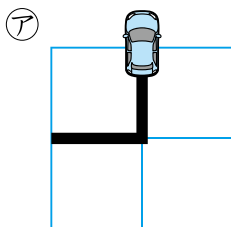

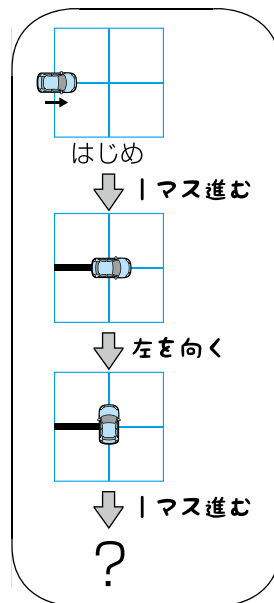
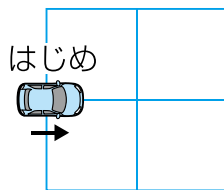
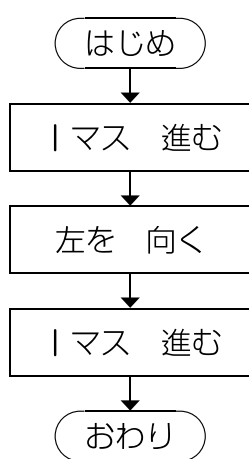


動いたところに線がひかれるよ。



ロボットは、命れいしたじゅんに動きます。次のように命れいしたとき、どんな線になりますか。

25点



新興出版社啓林館 ちびむすドリル special コラボ

ドリルの王様

楽しく取り組めるから **長続き** する!

各種検定試験、また 2020年度からの **新学習指導要領** にも対応!

ドリルの王様

or

教科書びったりテスト

検索

ドリルの王様
公式サイトは
こちら



予習・復習に便利な
教科書びったりテスト
公式サイトはこちら



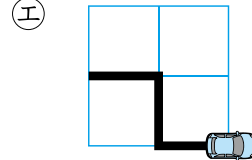
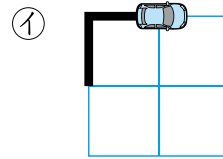
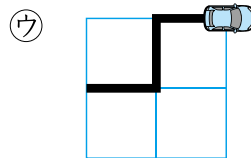
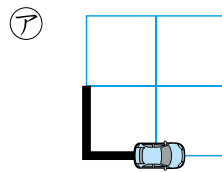
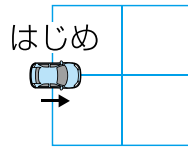
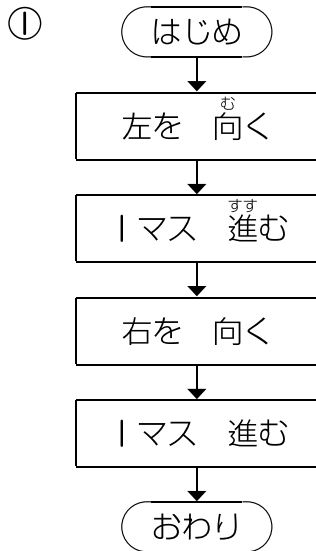


2

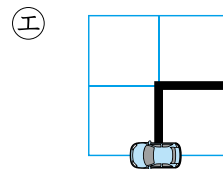
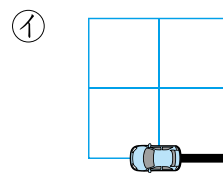
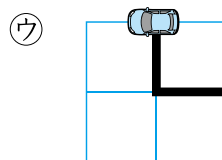
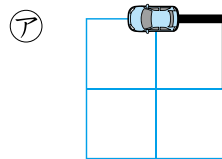
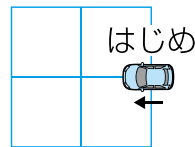
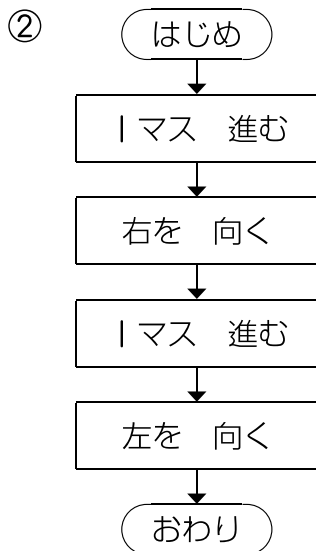
じゅんじょ ②

月 日	時 分～ 時 分
名前	点

① 車のロボットを動かして線をかきます。次のように命れいしたとき、どんな線になりますか。 50点(1つ25)



()



()





4 くり返し②

月 日	時 分～ 時 分
名前	
点	

① ロボットは、命れ^{めい}いたじゅんに、左からくだものをならべます。

はじめ

2回
くり返す

りんごを おく

みかんを おく

ここまで

おわり

はじめ

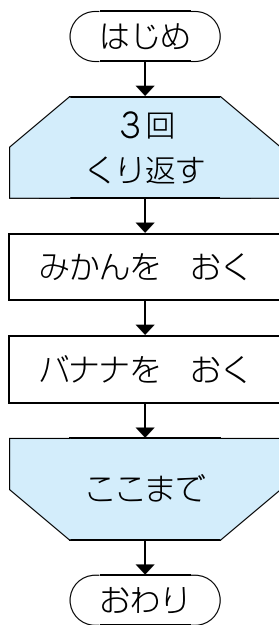
↓りんごを おく

↓みかんを おく

↓りんごを おく

↓みかんを おく

つぎ 次のように命れ^{めい}いたとき、くだものは、どのようにならびますか。 30点



- ア
- イ
- ウ
- エ

()





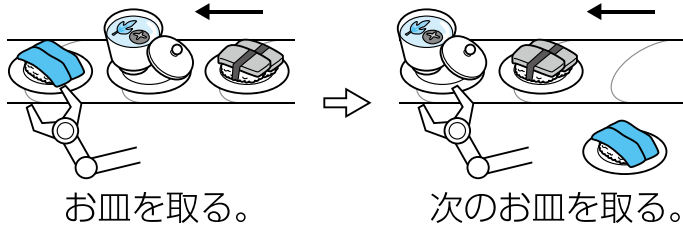
6

ぶんき ②

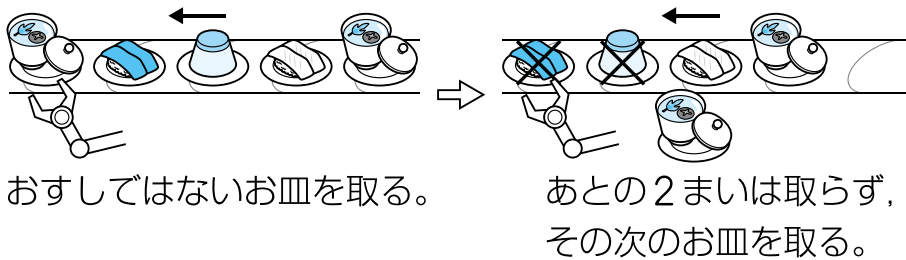
月 日	時 分～ 時 分
名前	点

① ^{かいてん}回転ずしでは、いろいろな食べものがお皿にのって^{さら}流れてきます。^{なが}このお皿を取るロボットがあります。ロボットは、次のようなきまりで、お皿を取ります。

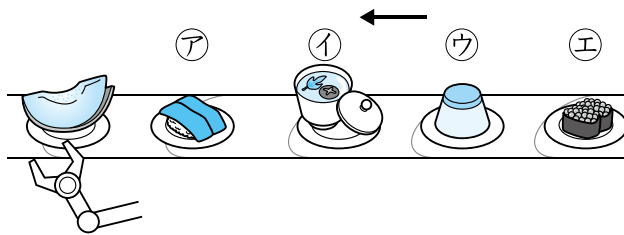
- ・ 右から流れてくるお皿を | まいずつ取る。



- ・ おすしではないお皿を取ったら、そのあとの2まいは取らない。



次のようにお皿が流れてくるとき、このロボットがメロンの次に取るお皿はどれですか。 12点



「メロン」はおすしではないね！あとの2まいは取らないよ。





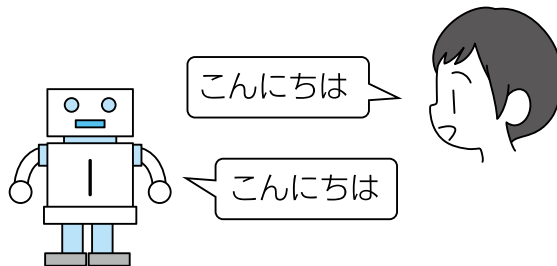
へん数①

月	日	時	分~	時	分
名前				点	

① はるとさんは、お父さんにことばをおぼえるロボットを買ってもらいました。ロボットは3体あり、それぞれさいごにつたえられたことばをおぼえます。

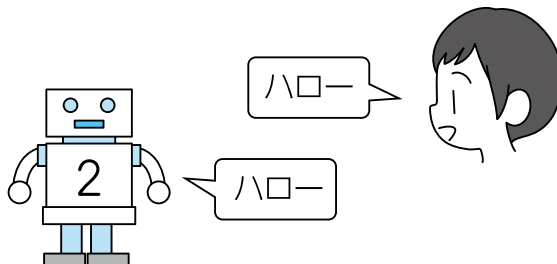
・ロボット1号に、「こんにちは」をおぼえてほしいときは、次のようにつたえます。

ロボット1号←“こんにちは”



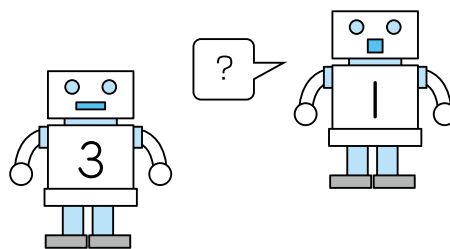
・ロボット2号に、「ハロー」をおぼえてほしいときは、次のようにつたえます

ロボット2号←“ハロー”



つづけて、ロボット3号にロボット1号がおぼえていることばを、おぼえるように命じりました。

ロボット3号←ロボット1号



このとき、ロボット1号、2号、3号がおぼえていることばはそれぞれ何ですか。

22点(7,7,8)

それぞれのロボットがさいごにつたえられたことばは何かな。



ア こんにちは イ ハロー

1号() 2号() 3号()









へん数②

月 日	時 分～	時 分
名前		点

花のなえを植えます。1か所に植える数を次のようにしました。


あさがお←6 ひまわり←8 ほうせんか←7 マリーゴールド←9 おしろいばな←5



花のなえを次の場所に植えます。

ベランダ←あさがお+ひまわり
公園←ひまわり+ほうせんか
花だん←ほうせんか+マリーゴールド
校庭←マリーゴールド+おしろいばな

ベランダ	6+8
公園	8+7
花だん	7+9
校庭	9+5



① 植えるなえの数はそれぞれいくつですか。()にあてはまる数をかきましよう。 16点(1つ4)

- | | | | |
|--------|-----|------|-----|
| ① ベランダ | () | ② 公園 | () |
| ③ 花だん | () | ④ 校庭 | () |

② なえの数が多の方に○をつけましよう。 24点(1つ4)

- | | | | | | |
|---|---------|-----|---|--------|------|
| ① | ベランダ | 公園 | ② | 公園 | 花だん |
| | () | () | | () | () |
| ③ | 花だん | 校庭 | ④ | ベランダ | あさがお |
| | () | () | | () | () |
| ⑤ | マリーゴールド | 公園 | ⑥ | おしろいばな | 校庭 |
| | () | () | | () | () |



ドリルの王様

だいたくしゅう 大特集

とく てん ひょう 得点表

3・4ねんの 楽しいプログラミング

ドリルにチャレンジして、^{てんすう きろく}点数を記録しよう。
^{かいめ ぜんもんせいがい}1回目で全問正解できなくても2回、3回と、
^{かえ せん}くり返しちょう戦しよう！
^{まんてん と}満点が取れたら、^{いろ}に色をぬってね。

めざせ
まんてん
満点!!

名前	1回目	2回目	3回目
1 じゅんじよ①	点	点	点
2 じゅんじよ②	点	点	点
3 くり返し①	点	点	点
4 くり返し②	点	点	点
5 ぶんき①	点	点	点
6 ぶんき②	点	点	点
7 へん数①	点	点	点
8 へん数②	点	点	点